

Circonscription de Dieppe Ouest



Français - Mathématiques


évaluation à l'entrée au **CE1**

Nom :	Prénom :
Niveau scolaire et classe :	
Âge de l'élève à la date de l'observation (années + mois) :	
Date de l'observation :	


2016

FRANÇAIS

EXERCICE 1

	maizon
	saison
	maison
	maizan


CE1 Item 1

	enfin
	enlant
	anfent
	enfant

CE1 Item 2

2	doeu
	dieu
	veux
	deux

CE1 Item 3

	tanne
	femme
	fanne
	famme

CE1 Item 4

EXERCICE 2

CE1 Item 5

CE1 Item 6

CE1 Item 7

CE1 Item 8

CE1 Item 9

CE1 Item 10

CE1 Item 11

CE1 Item 12

EXERCICE 3

CE1 Item 13	1 9 0	CE1 Item 14	1 9 0	CE1 Item 15	1 9 0	CE1 Item 16	1 9 0
CE1 Item 17	1 9 0	CE1 Item 18	1 9 0	CE1 Item 19	1 9 0	CE1 Item 20	1 9 0
CE1 Item 21	1 9 0						

EXERCICE 4



1	2	3
---	---	---

(A)

1	2	3
---	---	---

CE1 Item 22

1 9 0

(B)

1	2	3
---	---	---

CE1 Item 23

1 9 0


(C)

1	2	3
---	---	---

CE1 Item 24

1 9 0

EXERCICE 5



chameau	chapeau	château
---------	---------	---------

CE1 Item 25

1	9	0
---	---	---



pile	pull	poule
------	------	-------

CE1 Item 26

1	9	0
---	---	---



pantalon	parapluie	panthère
----------	-----------	----------

CE1 Item 27

1	9	0
---	---	---



feuille	fleur	fille
---------	-------	-------

CE1 Item 28

1	9	0
---	---	---



ballon	bâton	balai
--------	-------	-------

CE1 Item 29

1	9	0
---	---	---

EXERCICE 6 (Partie 1)

1

La niche dort dans le chien.

Le chien la niche dort.

Le chien dort dans la niche.

CE1 Item 30

1	9	0
---	---	---

2

Amélie lance une balle contre le mur.

Amélie balle contre le mur.

Une balle Amélie contre le mur.

CE1 Item 31

1	9	0
---	---	---

3

La fenêtre regarde le garçon.

Le garçon regarde par la fenêtre.

Par le garçon la fenêtre regarde.

CE1 Item 32

1	9	0
---	---	---

EXERCICE 6 (Partie 2)

1



Bruno est endormi.
Bruno est réveillé.

2



Bruno rit.
Bruno pleure.

CE1 Item 33

1 9 0

3



Bruno écoute une histoire.
Bruno lit une histoire.

4



Bruno boit du sirop.
Bruno mange du gâteau.


CE1 Item 34

1 9 0

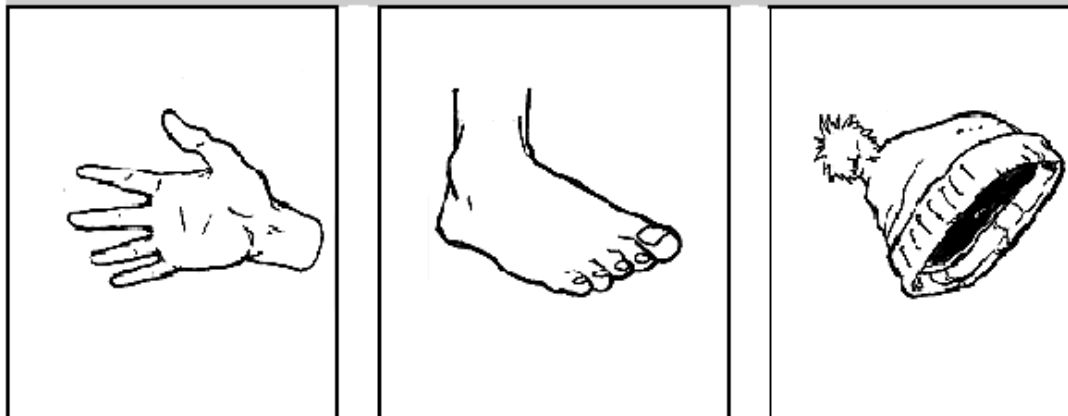
CE1 Item 35

1 9 0

EXERCICE 7




1



CE1
Item 36

1 9 0


2



CE1
Item 37

1 9 0

3





CE1
Item 38

1 9 0

EXERCICE 8

1



2



3



4

L'ours a mangé les petits castors

L'ours a mangé la bouillie

L'ours a offert une bouillie aux petits castors

CE1 Item 39

1 9 0

CE1 Item 40

1 9 0

CE1 Item 41

1 9 0

CE1 Item 42

1 9 0

EXERCICE 9

Il y a de cela très très longtemps, dans un lointain pays qui n'existe plus aujourd'hui, vivait un roi très beau qui s'appelait Léon.

Léon était si beau qu'il passait des heures à se regarder dans la glace. Et la seule chose qui l'intéressait dans la vie, c'était d'être le plus beau.

Il était d'ailleurs très sévère. Si jamais quelqu'un était plus beau que lui, il envoyait ses soldats lui couper la tête. Aussi personne n'avait envie d'être plus beau que le roi.

Et les gens du royaume s'arrangeaient pour s'enlaidir autant qu'ils le pouvaient. Ils se collaient des verrues en caoutchouc sur le menton, des dents de pirates, des faux nez et des tire-bouchons dans les oreilles.

1 - Comment s'appelait le roi ?

CE1 Item 43

1 9 0

Jean

Édouard

Léon

2 - Quelle était la seule chose qui intéressait le roi dans la vie ?

CE1 Item 44

1 9 0

Être le
plus fort

Être le
plus beau

Être le
plus gros

3 - A quoi le roi passait-il des heures ?

CE1 Item 45

1 9 0

À manger
des glaces

À s'admirer
dans la glace

À se coiffer
devant une glace

4 - Que décidait le roi si quelqu'un était plus beau que lui ?

CE1 Item 46

1 9 0

Il envoyait ses soldats
lui couper la tête

Il envoyait
son armée

Il envoyait ses soldats
pour l'emprisonner

5 - Alors, que faisaient les gens du royaume ? [plusieurs réponses sont possibles]

1 9 0

Ils se coupaient
les cheveux

Ils s'arrangeaient
pour s'enlaidir

Ils se collaient des
verrues sur le menton

Ils grossissaient

Ils se collaient des
faux nez

MATHÉMATIQUES

EXERCICE 10

(A)	
23	32

(B)	
52	57

(C)	
38	48

(D)	
Treize	Trente

(E)	
Cent	Cinquante

(F)		
80	78	79

CE1 Item 48	1	9	0
CE1 Item 51	1	9	0

CE1 Item 49	1	9	0
CE1 Item 52	1	9	0

CE1 Item 50	1	9	0
CE1 Item 53	1	9	0

EXERCICE 11

CE1 Item 54	1	9	0
-------------	---	---	---

$10 + 10 + 5$

2 dizaines et 5 unités

$2 + 5$

$20 + 5$

$10 + 5$

EXERCICE 12

	
---	--

<i>a</i>	
<i>b</i>	
<i>c</i>	
<i>d</i>	
<i>e</i>	

CE1 Item 55	1	9	0
CE1 Item 56	1	9	0
CE1 Item 57	1	9	0
CE1 Item 58	1	9	0
CE1 Item 59	1	9	0

EXERCICE 13

Écris à la bonne place les nombres : **63, 21, 85, 37.**

12

36

58

73

100

CE1 Item 60

1 9 0

EXERCICE 14

--	--	--	--	--	--	--	--

CE1 Item 61

1 9 0

CE1 Item 62

1 9 0

EXERCICE 15

$$\begin{array}{r} 57 \\ + 14 \\ \hline \end{array}$$

$$\begin{array}{r} 10 \\ + 25 \\ \hline \end{array}$$

CE1 Item 63

1 9 0

CE1 Item 64

1 9 0


$$45 + 23$$

--

CE1 Item 65

1 9 0

EXERCICE 16



CE1 Item 66

EXERCICE 17

A

CE1 Item 67

B

CE1 Item 68

C

CE1 Item 69

D

CE1 Item 70

E

CE1 Item 71