



Cahier de l'élève

Français - Mathématiques

évaluation à l'entrée au

CP

Nom : Prénom :

Niveau scolaire et classe :

Âge de l'élève à la date de l'observation (années + mois) :

Date de l'observation :

2015

Épreuve 1 : Lire des lettres



i u v m n h r e o a c



d t f k l b s z x w y j g p q

1 8 9 0
CP01

Épreuve 2 : Copier le modèle et écrire son prénom

Je m'appelle...

1 2 9 0
CP02

1 2 9 0
CP03

1 9 0
CP04

1 9 0
CP05

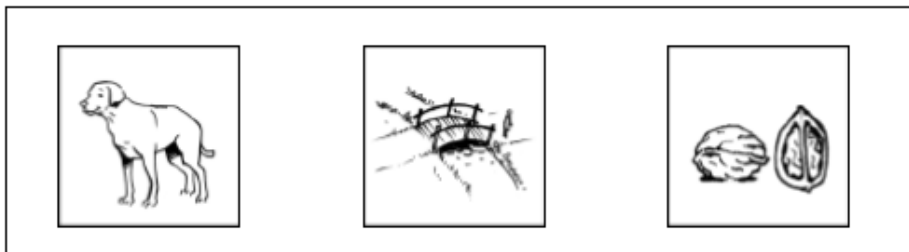
1 9 0
CP06

Épreuve 3 : Recopier le mot

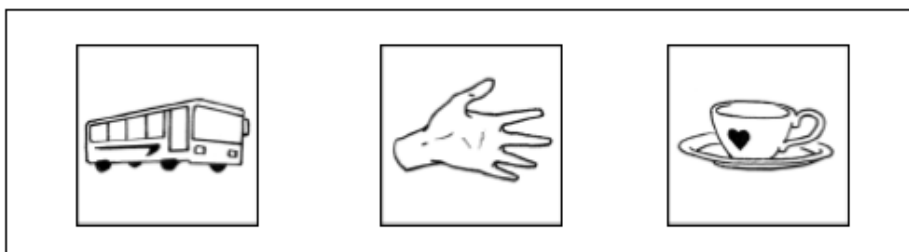
malade									

1 2 9 0
CP07


Épreuve 4 : Retrouver des sons dans les mots




1 9 0
CP08



1 9 0
CP09



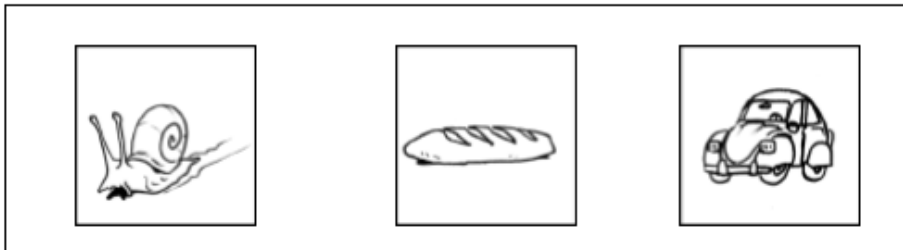
1 9 0
CP10



1 9 0
CP11



1 9 0
CP12



1 9 0
CP13

Épreuve 5 : Supprimer une syllabe d'un mot

ITEMS	Correction	Score
balai sans dire lai	ba	
vélo sans dire lo	vé	
bougie sans dire gie	bou	
maison sans dire son	mai	
serpent sans dire ser	pent	
chaudron sans dire chau	dron	
<i>Total de bonnes réponses</i>		

1 8 9 0
CP14

Épreuve 6 : Entourer les mots

beau ✎ 49 ... ▲ i

✉ dimanche ! m 3 3 3 +

123 ✎ lapin ↘ 📁 camion

? Σ école Elisa ☉ a a a

1 9 0
CP15

Épreuve 7 : Reconnaître les jours de la semaine

dimanche **mardi**
lundi **mercredi**
jeudi **vendredi**
samedi

1 9 0
CP16

1 9 0
CP17

1 9 0
CP18

Épreuve 8 : Comprendre des consignes



Épreuve 9 : Connaître les nombres

Noter le dernier nombre connu de la comptine numérique

1 9 0
CP20

Compter de 5 à 18

1 2 8 9 0
CP21

Compter de 9 à 19

1 2 8 9 0
CP22

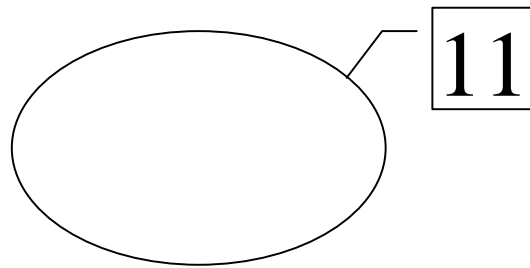
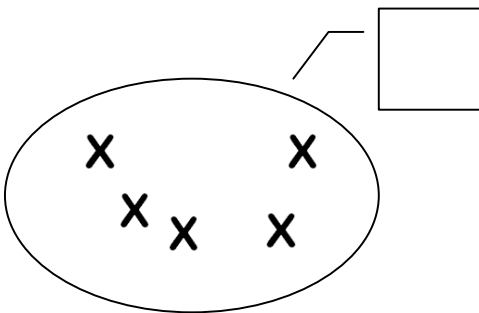
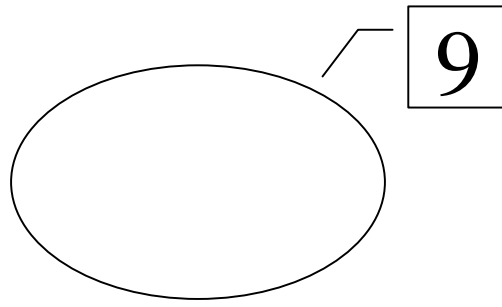
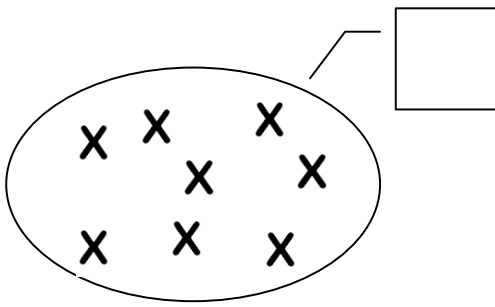
Lire les nombres

1	20	13	9	16	5	8	17	21	7	12	2	15
---	----	----	---	----	---	---	----	----	---	----	---	----

5	19	3	30	4	10	6	18	11	14	26	30	0
---	----	---	----	---	----	---	----	----	----	----	----	---

1 2 8 9 0
CP23

Associer un nombre à une collection



1 9 0
CP24

1 9 0
CP25

Compléter une suite de nombres

1	2		4	5
---	---	--	---	---

13	14		16	17
----	----	--	----	----

8		10	11	12
---	--	----	----	----


	7	8	9	10
--	---	---	---	----

1 2 9 0


CP26

Épreuve 10 : Se situer dans l'espace


Entoure le nounours qui est entre les deux cubes.



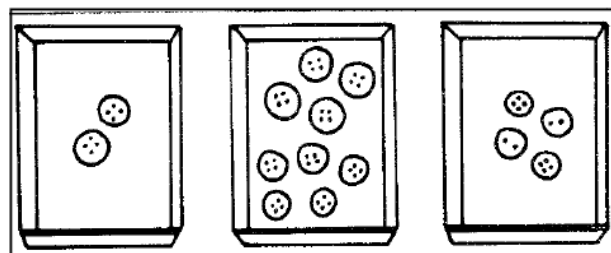
Entoure l'image où il y a le moins de glaces.



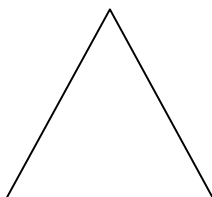
Entoure le groupe de crayons qui a autant de crayons que la boîte.



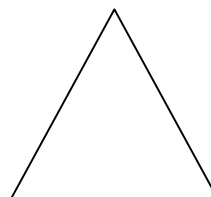
Entoure la boîte où il y a le plus de boutons.



Dessine une croix à l'extérieur du triangle.



Dessine trois croix à l'intérieur du triangle.




Dessine deux ballons sous le banc.



Dessine un ballon sur la chaise.



Colorie les lapins qui sont derrière le cheval.



Colorie la chèvre qui est devant le cheval.

