

# ÉVALUATION EN MILIEU DE COURS PRÉPARATOIRE

Année scolaire 2016 - 2017

## LIVRET DE L'ÉLÈVE

NOM : ..... Prénom : .....

Né le : .../.../..... École : ..... Classe : .....

### MAÎTRISE DE LA LANGUE

Domaine	Score de réussite
LECTURE ET COMPREHENSION DE L'ECRIT	/18
ECRITURE	/12
<b>Score de réussite global</b>	<b>/30</b>

### MATHÉMATIQUES

Domaine	Score de réussite
NOMBRES ET CALCUL	/ 14
GEOMETRIE - GRANDEURS ET MESURES	/ 4
ORGANISATION ET GESTION DES DONNEES - PROBLEMES	/ 6
<b>Score de réussite global</b>	<b>/ 24</b>

LECTURE ET COMPREHENSION DE L'ECRIT

L1

--	--	--	--	--	--	--	--	--	--	--


Item 1

L2

<b>A</b>	<b>B</b>			
----------	----------	--	--	--

Item 2

L3

	pati tola papu tipa pata
---	--------------------------

	louta mirou lapi loupi sintou
---	-------------------------------




Item 3

	rapipe lapiro milapo lapito lirama
---	------------------------------------

★	raripon pilati pilapon roititi tiladan
---	--

Item 4

L4

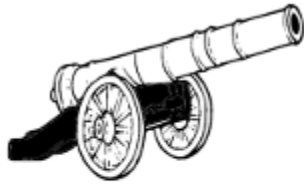


Item 5

L5



ba pa



ca ga



nu mu

Item 6



fé té







bou bon



deau teau





Item 7

L6

			
baleine banane bateau	chameau chalet château	table tasse tapis	carabine cartable carotte

Item 8

L7

	rouge	petit	vert	grand	joli
	semaine	tête	papa	lundi	image
	hiver	maison	porte	ville	mardi
	jouer	écrire	coller	découper	dormir

Score total sur 8 : ....

Item 9

L8

✈	le la de un une et il les à			
✂	ne je que se qui ce dans son			
🕒	en du elle de des pour pas par			
➡	sur plus me on mon lui sous			
✋	nous comme mais avec tout y où			

Score total sur 15 : .....

Item 10

L9



Item 11

L10

1	2	3	4	5
---	---	---	---	---

Item 12

L11



Item 13

L12



Item 14

L13 (Passation individuelle)

La petite fille marche dans la rue. Elle a froid.

Item 15

Item 16

Item 17


L14 (Passation individuelle)

riche	.....
méchant	.....
sale	.....
froid	.....
grand	.....

Item 18

E1

Le cheval et la jument galopent dans le pré.




Item 19

Item 20

Item 21

E2



1. ....

2. ....

3. ....

4. ....

5. ....

Item 22

E3

.....

.....

.....

.....

.....

Item 23

E4

.....

.....

.....

Item 24

Item 25

Item 26

E5



Item 27

Item 28

Item 29

Item 30





**NOMBRES ET CALCULS**

NC1

quatre •

six •

sept •

deux •

cinq •

• 2

• 6

• 5


• 4

Item 1


Item 2

Item 3

NC2



Two dice are shown in a box. The top die shows 5 dots and the bottom die shows 5 dots. Below the dice are two boxes containing the number 5.



Two dice are shown in a box. The top die shows 6 dots and the bottom die is empty. Below the dice are two boxes, the first containing the number 6 and the second being empty.

Item 4

Item 5

NC3



6 4 2



9 5 1 3



Item 6

NC4

8 •

- 4 + 4
- 6 + 3
- 5 + 3

7 = ..... + .....

7 = ..... + .....

9 •

- 5 + 3
- 2 + 6
- 3 + 6

6 = ..... + .....

6 = ..... + .....

Item 7

Item 8

NC5

5 + ..... = 10

11 + 5 = .....

10 - 2 = .....

6 + ..... = 10

14 + 4 = .....

10 - 3 = .....

Item 9

Item 10

Item 11

NC6

12 + 5 =

10 + 10 =

8 + 5 =

13 + 4 =

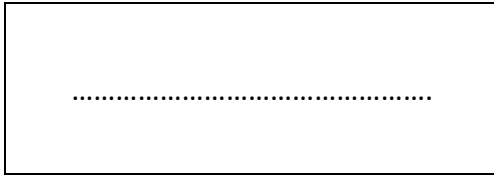
Item 12

NC7

				
.....	.....	.....	.....	.....

Item 13

NC8



Item 14

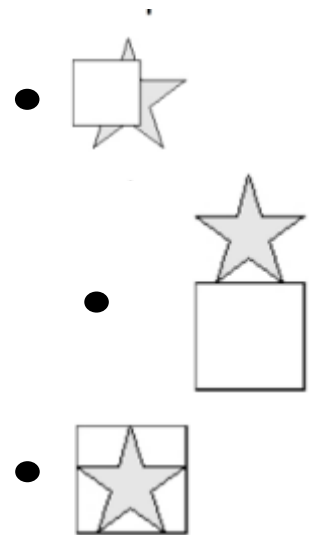
GEOMETRIE 6 GRANDEURS ET MESURES

GGM1

L'étoile est au-dessus du carré. ●

L'étoile est devant le carré. ●

L'étoile est derrière le carré. ●



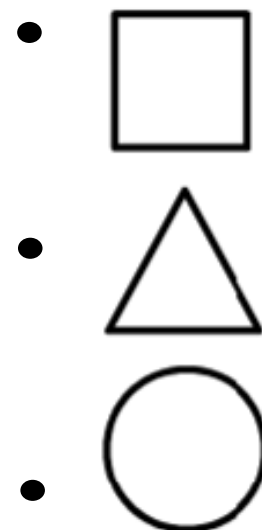
Item 15

GGM2

cercle ●

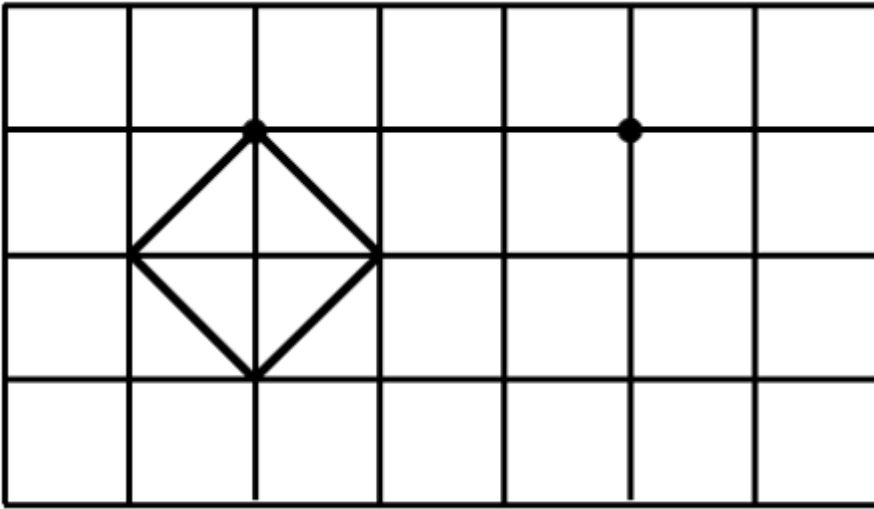
carré ●

triangle ●



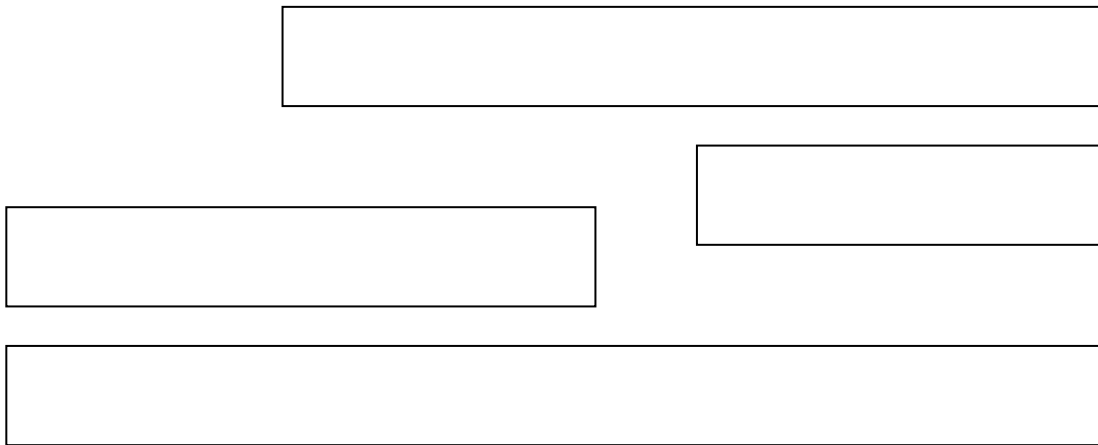
Item 16

GGM3



Item 17




GGM4



Item 18

**ORGANISATION ET GESTION DE DONNEES - PROBLEMES**



OGDP1


			
Claire		X	
Paul			
Pierre			

Item 19


Item 20

OGDP2


	1	2	3	4	5
A					
B					
C					
D					
E					

La voiture  est placée sur la case

A	1
---	---

Indique la case où est placée l'étoile 

--	--

Dessine un éclair  sur le quadrillage en

B	5
---	---

Item 21

Item 22

OGDP3



6 euros



2 euros



3 euros



10 euros

Entoure la bonne réponse pour chaque question.

Avec ces 8 euros :

Tu peux acheter la voiture ?                    **OUI**                    **NON**

Tu peux acheter la moto ?                    **OUI**                    **NON**

Tu peux acheter la voiture et le ballon ?                    **OUI**                    **NON**

Tu peux acheter la voiture et le livre ?                    **OUI**                    **NON**

Item 23

Tu achètes finalement la voiture. Combien d'euros te reste-t-il ?

<p>Réponse : Il me reste ..... Euros</p>
--

Item 24

